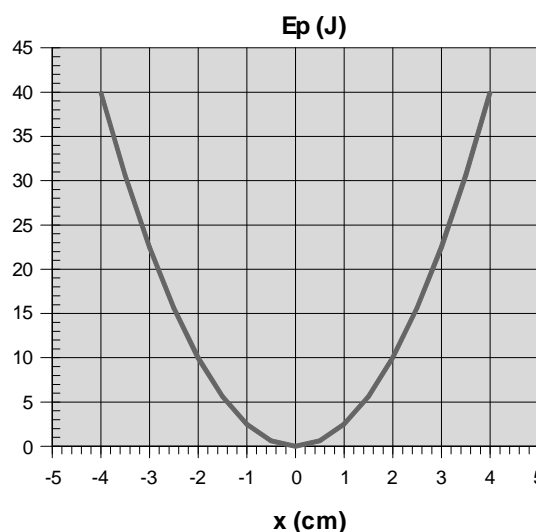


### ☞ Opción A. Ejercicio 1

Una masa  $m$  unida a un muelle realiza un movimiento armónico simple. La figura representa su energía potencial en función de la elongación  $x$ . (1 punto)

- [a] Represente la energía cinética y la energía total en función de  $x$ .
- [b] Calcule la constante elástica del muelle. (0,5 puntos)
- [c] Si la masa es  $m = 1$  kg, calcule su velocidad máxima. ¿En qué posición  $x$  se alcanza esta velocidad? (1 punto)



### Respuesta

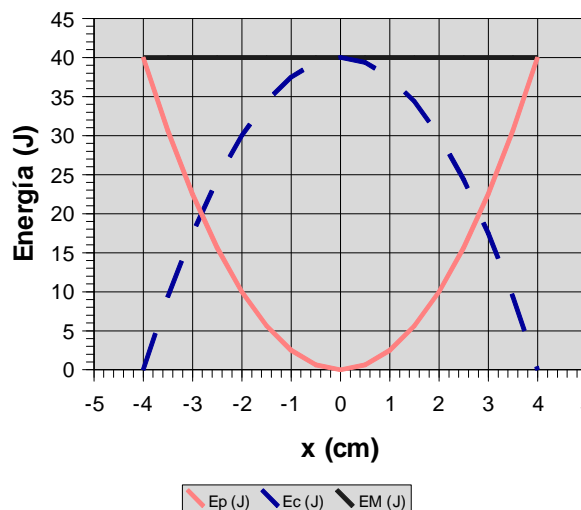
[a] La energía potencial asociada a un oscilador armónico está dada por:  $E_p = \frac{1}{2}kx^2$ , expresión que corresponde a la siguiente función cuadrática:  $E_p = Bx^2$ ; el valor de  $B$  se obtiene a partir de la gráfica, pues  $E_p = 40$  J, cuando  $x = \pm 4$ cm y  $B = \frac{40(J)}{0,04^2(m^2)} = 2,5 \cdot 10^4(\frac{N}{m})$ . La energía potencial es, entonces,  $E_p = 2,5 \cdot 10^4 x^2$ . Por otro lado, en los extremos de la trayectoria la energía cinética es nula y la energía mecánica coincide con la energía potencial:  $E_M = 40(J)$ . Además, teniendo en cuenta que la energía mecánica se conserva, la expresión matemática de la energía cinética es:  $E_c = E_M - E_p = 40 - 2,5 \cdot 10^4 x^2(J)$ , función cuadrática cuya gráfica es una parábola con el vértice en  $x = 0$ .

Si se dispusiera de un programa de construcción de gráficas, se podría representar fácilmente las energías cinética y mecánica, como se ha hecho en la figura adyacente. En nuestro caso hay que conformarse con un trazado manual.

- [b] En la discusión anterior, se ha visto que  $B = \frac{1}{2}k$ , por lo que  $k = 2B = 5 \cdot 10^4(\frac{N}{m})$ .
- [c] La rapidez máxima es alcanzada en la posición de equilibrio, por lo que:

$$E_p = \frac{1}{2}mv_{\max}^2 = 40;$$

$$v_{\max} = \sqrt{80} = 8,9(\frac{m}{s}).$$



## ☞ Opción A. Ejercicio 2

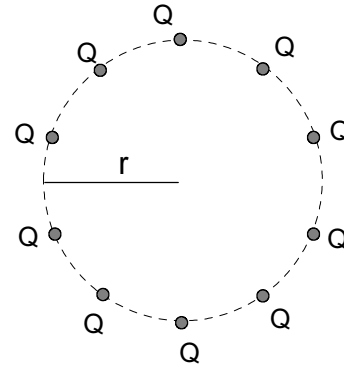
- [a] Enuncie y explique la ley de gravitación universal. (1 punto)  
El satélite *Astra 2C*, empleado para emitir señales de televisión, es un satélite en órbita circular geostacionaria.
- [b] Calcule la altura a la que órbita respecto de la superficie de la Tierra y la velocidad con que se mueve. (1 punto)
- [c] Calcule la energía necesaria para llevar el *Astra 2C* desde la superficie de la Tierra hasta su órbita. (0,5 puntos)
- [DATOS: Constante de gravitación universal,  $G = 6,67 \cdot 10^{-11} \text{ Nm}^2\text{kg}^{-2}$ ; radio de la Tierra,  $R_T = 6,38 \cdot 10^6 \text{ m}$ ; masa de la Tierra,  $M_T = 5,97 \cdot 10^{24} \text{ kg}$ ; masa del satélite *Astra 2C*,  $m = 6000 \text{ kg}$ ]

## Respuesta

- [a] Consulta el libro de Física.
- [b] La fuerza gravitatoria sobre el satélite en órbita circular alrededor de la Tierra se comporta como fuerza centrípeta, por lo que  $G \frac{M_T m}{r^2} = m \frac{4\pi^2}{T^2} r$ , de donde se deduce que  $r^3 = \frac{GM_T}{4\pi^2} T^2$ , es decir,  $r = \sqrt[3]{\frac{GM_T T^2}{4\pi^2}} = \sqrt[3]{\frac{6,67 \cdot 10^{-11} \cdot 5,97 \cdot 10^{24} \cdot 86400^2}{4\pi^2}} = 4,22 \cdot 10^7 \text{ (m)}$ . Este es el radio de la órbita del satélite; la altura respecto a la superficie terrestre es:  $h = r - R_T = 3,58 \cdot 10^7 \text{ (m)}$ .  
La rapidez orbital del satélite se calcula mediante:  $v = \frac{2\pi r}{T} = \frac{2\pi \cdot 4,22 \cdot 10^7}{8,64 \cdot 10^4} = 3,07 \cdot 10^3 \text{ (}\frac{\text{m}}{\text{s}}\text{)}$ .
- [c] Podemos suponer que se cumple la ley de conservación de la energía mecánica:  
 $E_M$  (superficie terrestre) =  $E_M$  (órbita). En la superficie de la Tierra, el satélite tiene energía potencial, por lo que hay que comunicarle energía cinética; por otro lado, al ser la órbita circular, recuerda que existe una expresión matemática para la suma de las energías cinética y potencial. En consecuencia,  
 $E_{c,o} - G \frac{M_T m}{R_T} = -\frac{1}{2} G \frac{M_T m}{r}$ ,  $E_{c,o} = GM_T m \left( \frac{1}{R_T} - \frac{1}{2r} \right) = 3,46 \cdot 10^{11} \text{ (J)}$ .

### ⌘ Opción A. Ejercicio 3

- [a] Explique el concepto de potencial eléctrico. ¿Cuál es el potencial eléctrico creado por una carga  $Q$  a una distancia  $r$  de la misma? ¿Y el creado por un conjunto de cargas? (1,5 puntos)
- [b] Un conjunto de diez cargas iguales  $Q = 5 \mu\text{C}$  se encuentran igualmente espaciadas a lo largo de una circunferencia de radio  $r = 1 \text{ m}$ , tal como muestra la figura. Calcule el potencial eléctrico en el centro. ¿Cuál es el trabajo necesario para traer una carga  $q = 1 \mu\text{C}$  desde el infinito hasta el centro de la circunferencia? (1 punto)



$$\{\text{DATOS: } k = \frac{1}{4\pi\epsilon_0} = 9 \cdot 10^9 \text{ Nm}^2\text{C}^{-2}; 1 \mu\text{C} = 10^{-6}\text{C}\}$$

### Respuesta

[a] Consulta el libro de Física.

[b] En primer lugar, una consideración: toda la vida intentando que nuestros alumnos aprendan los prefijos de los múltiplos y submúltiplos de las unidades y en esta prueba se dan como dato. No se entiende.

El potencial eléctrico total en el centro  $C$  de la circunferencia es igual a diez veces el potencial eléctrico debido a una carga:  $V_{C,Total} = 10V_{C,Q} = 10 \cdot 9 \cdot 10^9 \frac{5 \cdot 10^{-6}}{1} = 4,5 \cdot 10^5 \text{ (V)}$ .

El campo eléctrico es conservativo, por lo que:  $W_{\infty \rightarrow C} = -\Delta E_p = -q\Delta V = -q(V_C - V_\infty)$ . El potencial eléctrico en el punto  $C$ , debido al sistema de diez cargas, ya ha sido calculado, mientras que el potencial eléctrico de dicho sistema en el infinito es nulo. El trabajo realizado sobre  $q$  es, entonces,  $W_{\infty \rightarrow C} = -1 \cdot 10^{-6}(4,5 \cdot 10^5 - 0) = -0,45 \text{ J}$ . Al ser una magnitud negativa se concluye que ha sido realizado en contra de las fuerzas del campo eléctrico. Es necesario un agente exterior: pues las cargas positivas se mueven espontáneamente en el sentido de los potenciales decrecientes (de  $C$  a  $\infty$ ).

### ☞ Opción A. Ejercicio 4

- [a] Enuncie el principio de incertidumbre de Heisenberg y explique su significado físico. (1 punto)
- [b] Se mide la posición de una partícula de masa  $m = 2 \cdot 10^{-6}$  kg con una *exactitud*  $\Delta x = 10^{-6}$  mm. Calcule la indeterminación en el momento lineal. ¿Cuál es la indeterminación en la velocidad? (1,5 puntos)

DATO:  $h = 6,63 \cdot 10^{-34}$  J.s

### Respuesta

- [a] Consulta el libro de Física.
- [b] En los libros es posible encontrar más de una relación matemática, con ligeras variantes, asociada al principio de incertidumbre. Vamos a utilizar la siguiente:  $\Delta x \cdot \Delta p \geq \frac{h}{4\pi}$ , donde  $\Delta x$  y  $\Delta p$  son las imprecisiones en las medidas de la posición y la cantidad de movimiento, respectivamente, y  $h$  la constante de Planck.
- Se supone que el dato de *exactitud* corresponde a la imprecisión en la posición (¿por qué se le llama exactitud?). La imprecisión en el momento lineal es:  $\Delta p \geq \frac{h}{4\pi \cdot \Delta x}$ , esto es,  $\Delta p \geq \frac{6,63 \cdot 10^{-34}}{4\pi \cdot 10^{-9}}$ ;  $\Delta p \geq 5,28 \cdot 10^{-26} \left( \frac{\text{kg} \cdot \text{m}}{\text{s}} \right)$ .
- Por otro lado, al dividir los dos miembros de esta desigualdad por la masa  $m$ , se obtiene la imprecisión en la velocidad:  $\Delta v \geq \frac{5,28 \cdot 10^{-26}}{2 \cdot 10^{-6}}$ ;  $\Delta v \geq 2,64 \cdot 10^{-20} \left( \frac{\text{m}}{\text{s}} \right)$ .

### ☞ Opción B. Ejercicio 1

Por una cuerda tensa se propaga, en el sentido positivo del eje X, una onda sinusoidal transversal a una velocidad de 10 m/s. Los puntos de la cuerda oscilan con una frecuencia  $f = 2$  Hz. En el instante  $t = 0$ , el punto de cuerda en  $x = 0$  pasa por la posición de equilibrio con una velocidad de oscilación transversal positiva de 1 m/s.

- [a] Calcule la amplitud de la onda y su fase inicial. (1 punto)  
 [b] Calcule la máxima velocidad de oscilación transversal de los puntos de la cuerda. (0,5 puntos)  
 [c] Escriba la función de onda correspondiente, en unidades S.I. (1 punto)

### Respuesta

- [a] La ecuación más general de una onda es del tipo:  $y(x, t) = A \cdot \text{sen}(\omega t - kt + \varphi_o)$ . De las condiciones iniciales:  $\left. \begin{array}{l} t=0 \\ x=0 \end{array} \right\} y=0$  se deduce:  $0 = A \cdot \text{sen} \varphi_o$ ;  $\text{sen} \varphi_o = 0$ ;  $\varphi_o = 0$ , es decir, la fase inicial es nula. La ecuación de la velocidad transversal se obtiene derivando la ecuación anterior respecto al tiempo:  $v_t(x, t) = A\omega \cdot \text{cos}(\omega t - kx)$ . La amplitud de la onda se obtiene de las condiciones iniciales:  $\left. \begin{array}{l} t=0 \\ x=0 \end{array} \right\} v_t = 1(\frac{m}{s})$ ;  $1 = A\omega$ ;  $A = \frac{1}{\omega} = \frac{1}{2\pi f} = \frac{1}{4\pi} = 7,96 \cdot 10^{-2}(m)$ .
- [b] De la ecuación de la velocidad se deduce, dado que la función coseno está acotada entre -1 y 1, el valor máximo de la velocidad transversal, prescindiendo del signo, es  $v_{t,\text{max}} = A\omega$ , cuyo valor es 1 m/s, evidentemente.
- [c] Para escribir la función de onda, dado que se ha calculado la amplitud y la frecuencia angular, es preciso conocer el valor del número de onda  $k$ ; se obtiene mediante:  $k = \frac{\omega}{v} = \frac{4\pi}{10} = 0,4\pi(m^{-1})$ . Por lo tanto, la ecuación de la onda es:  
 $y(x, t) = 7,96 \cdot 10^{-2} \cdot \text{sen}(4\pi t - 0,4\pi x)(m)$ .

## ☞ Opción B. Ejercicio 2

- [a] Enuncie y explique las leyes de Kepler. (1 punto)  
 [b] Dos satélites artificiales  $S_1$  y  $S_2$  describen órbitas circulares alrededor de la Tierra con radios  $r_1 = 7000$  km y  $r_2 = 8650$  km, contenidas en el mismo plano. ¿Cuál es la relación  $T_1/T_2$  entre los periodos orbitales de los satélites  $S_1$  y  $S_2$ ? ¿Cuál es la relación  $v_1/v_2$  entre sus velocidades orbitales? ¿Y la relación  $a_1/a_2$  entre sus aceleraciones? (1,5 puntos)

## Respuesta

[a] Véase el libro de Física.

- [b] Se ha de cumplir para los satélites  $S_1$  y  $S_2$  la 3ª ley de Kepler: los cuadrados de los periodos son proporcionales a los cubos de las distancias medias -en este caso, los radios de las órbitas- de los satélites a la Tierra, esto es,  $\left[\frac{T^2}{r^3}\right]_1 = \left[\frac{T^2}{r^3}\right]_2$ , que se puede escribir:

$$\left[\frac{T_1}{T_2}\right]^2 = \left[\frac{r_1}{r_2}\right]^3 = \frac{7000}{8650} = 0,809; \quad \frac{T_1}{T_2} = 0,9.$$

Para cada uno de los satélites, la fuerza gravitatoria que ejerce la Tierra se comporta como fuerza centrípeta, por lo que:  $G\frac{M_T m}{r^2} = m\frac{v^2}{r}$ ; al simplificar queda:  $v = \sqrt{\frac{GM_T}{r}}$ . Se particulariza

esta ecuación para cada uno de los satélites: 
$$\left. \begin{aligned} v_1 &= \sqrt{\frac{GM_T}{r_1}} \\ v_2 &= \sqrt{\frac{GM_T}{r_2}} \end{aligned} \right\} \text{ y se divide una por otra,}$$

obteniéndose:  $\frac{v_1}{v_2} = \sqrt{\frac{r_2}{r_1}} = \sqrt{\frac{8650}{7000}} = 1,11$ .

La aceleración de cada satélite coincide con la intensidad del campo gravitatorio en sus correspondientes órbitas, esto es,  $\frac{a_1}{a_2} = \frac{g_1}{g_2} = \frac{GM_T}{r_1^2} \cdot \frac{r_2^2}{GM_T} = \left(\frac{r_2}{r_1}\right)^2 = \left(\frac{8650}{7000}\right)^2 = 1,53$ .

**☞ Opción B. Ejercicio 3**

[a] Escriba la expresión de la *fuerza de interacción magnética entre corrientes rectilíneas y paralelas*. Explique el significado de cada uno de los términos de la expresión. Basándose en ella, enuncie la *definición de Amperio*. (1 punto)

Por dos hilos conductores largos y rectos, paralelos entre sí y separados una distancia  $d = 10 \text{ cm}$ , circulan en el mismo sentido corrientes  $I_1 = 15 \text{ A}$  e  $I_2 = 30 \text{ A}$ .

[b] Calcule la fuerza por unidad de longitud que se ejercen entre sí los dos conductores, especificando su dirección y sentido. (1 punto)

[c] Calcule el valor del campo magnético creado por dichas corrientes en un punto P contenido en el mismo plano de los dos conductores y equidistante de ambos. Indique en un dibujo **la** dirección y **el** sentido de dicho campo. (1 punto)

DATO:  $\mu_0 = 4\pi \cdot 10^{-7} \text{ m kg C}^{-2}$ .

**Respuesta**

[a] Véase el libro de Física.

[b] La figura muestra la intensidad del campo magnético, debido a la corriente  $I_1$ , en la posición de la corriente  $I_2$ . También se muestra el campo magnético debido a la corriente  $I_2$  en la posición de la corriente  $I_1$ . Por otro lado, se sabe que la fuerza magnética sobre un elemento de corriente en un campo magnético está dada por:  $\vec{F} = I(\vec{l} \times \vec{B})$ , por lo que las fuerzas con que se atraen los dos conductores son las indicadas en la figura.

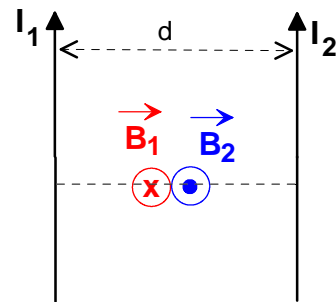
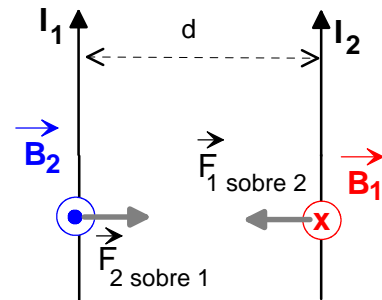
El módulo de dichas fuerzas, por unidad de longitud, se calcula mediante:

$$\frac{F}{l} = \frac{\mu}{2\pi} \frac{I_1 I_2}{d} = 2 \cdot 10^{-7} \frac{15 \cdot 30}{0,10} = 9 \cdot 10^{-4} \left(\frac{N}{m}\right)$$

[c] En primer lugar, con la regla de la mano derecha, se dibujan los vectores intensidad del campo magnético en el punto en cuestión. Vemos que  $\vec{B}_1$  y  $\vec{B}_2$  tienen, obviamente, la misma dirección y sentidos contrarios; se han dibujado así para mayor claridad. Los módulos de las intensidades  $\vec{B}_1$  y  $\vec{B}_2$  son:

$$\left. \begin{aligned} B_1 &= \frac{4\pi \cdot 10^{-7}}{2\pi} \frac{15}{0,05} = 6 \cdot 10^{-5} (T) \\ B_2 &= \frac{4\pi \cdot 10^{-7}}{2\pi} \frac{30}{0,05} = 12 \cdot 10^{-5} (T) \end{aligned} \right\} \text{La intensidad del}$$

campo magnético resultante en el citado punto medio tiene un módulo de  $6 \cdot 10^{-5} \text{ T}$ , la dirección perpendicular al plano del dibujo y el sentido hacia afuera.



### ☞ Opción B. Ejercicio 4

- [a] Explique en qué consisten las principales ametropías (defectos de visión) del ojo humano: miopía, hipermetropía y astigmatismo. (1,5 puntos)
- [b] Un ojo miope necesita una lente correctora de -2,5 dioptrías de potencia para poder ver nítidamente objetos muy alejados. ¿A qué distancia máxima puede ver nítidamente este ojo sin lente correctora? (0,5 puntos)

### Respuesta

[a] Consulta el libro de Física.

[b] En primer lugar, se calcula la distancia focal de la lente:  $f' = \frac{1}{P} = \frac{1}{-2,5} = -0,40m = -40cm$ .  
La distancia máxima a la que puede ver nítidamente con ese ojo coincide con el foco de la lente correctora: 40 cm.